

2023 愛知医科大学 (数学再現) 2023/1/24 実施 80分

(受験生の情報を元に作成していますので, 表現等が正確でない可能性があります)

※第三者のチェックをしていないため誤りを含む場合があります. あくまで参考程度にしてください.

1

(1) 関数 $f(x)$ を $f(x) = \frac{\log x}{x}$ とする. $f'(x) = \square$

(2) $\int_0^{\sqrt{2}} \sqrt{1 - \frac{x^2}{2}} dx = \square$.

(3) $\sin \frac{\pi}{24} + \sin \frac{7\pi}{24} = \square$

(4) n を 4 以上の偶数とする. 正 n 角形の頂点を結んでできる三角形を考える.

(4-1) 直角三角形の個数を求めよ.

(4-2) 鈍角三角形の個数を求めよ.

(4-3) 鋭角三角形の個数を求めよ.

(5) 数列

$$1, \frac{1}{2}, 1, \frac{1}{3}, \frac{2}{3}, 1, \frac{1}{4}, \frac{2}{4}, \frac{3}{4}, 1, \frac{1}{5}, \dots$$

について次の問に答えよ.

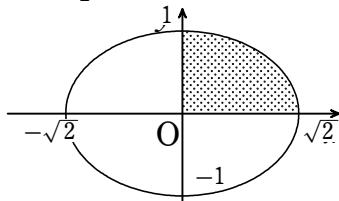
(5-1) $\frac{5}{8}$ は第何項か.

(5-2) 第 200 項の数を求めよ.

(5-3) 初項から第 200 項までの和を求めよ.

(1) $f'(x) = \frac{1 - \log x}{x^2}$

(2) $y = \sqrt{1 - \frac{x^2}{2}}$ とすると, $\frac{x^2}{2} + y^2 = 1 (y \geq 0)$



$\int_0^{\sqrt{2}} \sqrt{1 - \frac{x^2}{2}} dx$ は楕円 $\frac{x^2}{2} + y^2 = 1$ と x 軸, y 軸とで囲まれる部分の面積を表すので,

$$\int_0^{\sqrt{2}} \sqrt{1 - \frac{x^2}{2}} dx = \frac{1}{4} \cdot \pi \sqrt{2} \cdot 1 = \frac{\sqrt{2}}{4} \pi$$

(3) $\sin \frac{\pi}{24} + \sin \frac{7\pi}{24} = 2 \sin \frac{\pi}{6} \cos \frac{\pi}{8}$

であり,

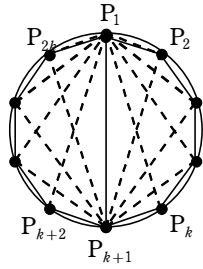
$$\cos^2 \frac{\pi}{8} = \frac{1 + \cos \frac{\pi}{4}}{2} = \frac{\sqrt{2} + 2}{4} \quad \therefore \cos \frac{\pi}{8} = \frac{\sqrt{\sqrt{2} + 2}}{2}$$

であるから,

$$\sin \frac{\pi}{24} + \sin \frac{7\pi}{24} = 2 \cdot \frac{1}{2} \cdot \frac{\sqrt{\sqrt{2} + 2}}{2} = \frac{\sqrt{\sqrt{2} + 2}}{2}$$

(4) $n = 2k$ ($k \geq 2$) とし、正 $2k$ 角形の各頂点を $P_1, P_2, P_3, \dots, P_{2k}$ とする.

(4-1) 線分 P_1P_{k+1} を斜辺とする直角三角形を考える.

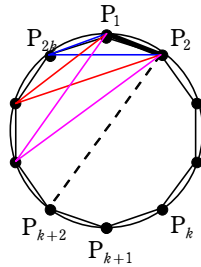


残りの点の選び方は、 $P_1, P_2, \dots, P_k, P_{k+2}, P_{k+3}, \dots, P_{2k}$ の $(2k-2)$ 通りある.

直径を含む k 本の線分で同様に考えられるので、直角三角形は、

$$k \times (2k-2) = \frac{n(n-2)}{2} \text{ 個}$$

(4-2) 点 P_1 が鈍角となる三角形を考える.



P_1P_2 を含み点 P_1 が鈍角となる三角形は、残りの点を $P_{k+3}, P_{k+4}, \dots, P_{2k}$ の $(k-2)$ 個の中から選ばばよい.

同様に P_1P_3 の場合は、残りの点を $P_{k+4}, P_{k+5}, \dots, P_{2k}$ の $(k-3)$ 個の中から選ばばよい.

したがって、点 P_1 が鈍角になる三角形は、

$$1 + 2 + \dots + (k-2) = \frac{1}{2}(k-2)(k-1)$$

個だけ作られる. 他の頂点のときも同様であるから、鈍角三角形は、

$$2k \times \frac{1}{2}(k-1)(k-2) = \frac{n}{2} \left(\frac{n}{2} - 1 \right) \left(\frac{n}{2} - 2 \right) = \frac{n(n-2)(n-4)}{8} \text{ 個}$$

(4-3) 正 $2k$ 角形から 3 つの頂点を選んでできる三角形は、

$${}_n C_3 = \frac{n(n-1)(n-2)}{6} \text{ 個}$$

だけあるので、鋭角三角形は、

$$\frac{n(n-1)(n-2)}{6} - \frac{n(n-2)}{2} - \frac{n(n-2)(n-4)}{8} = \frac{n(n-2)(n-4)}{24} \text{ 個}$$

(5) 与えられた数列を次のように第 k 群には $k+1$ 項の数が入るように群に分けて考える.

$$\boxed{1} \quad \boxed{2} \quad \boxed{3}$$

$$1, \frac{1}{2}, \mid 1, \frac{1}{3}, \frac{2}{3} \mid 1, \frac{1}{4}, \frac{2}{4}, \frac{3}{4} \mid 1, \frac{1}{5}, \dots$$

このとき、

$$\sum_{l=1}^k (l+1) = \frac{1}{2} k[2+(k+1)] = \frac{1}{2} k(k+3)$$

であるから、第 k 群の末項はこの数列の第 $\frac{1}{2}k(k+3)$ 項である.

(5-1) 第 k 群に含まれる数は次のようになっている.

$$1, \frac{1}{k+1}, \frac{2}{k+1}, \frac{3}{k+1}, \dots, \frac{k}{k+1}$$

したがって, $\frac{5}{8}$ は第7群の6番目の数であるから $\frac{5}{8}$ はこの数列の

$$\frac{1}{2} \cdot 6 \cdot (6+3) + 6 = \boxed{33 \text{項}}$$

(5-2) 第200項が第 m 群に属しているとする,

$$\frac{1}{2}(m-1)(m+2) < 200 \leq \frac{1}{2}m(m+3)$$

を満たしており, $\frac{1}{2} \cdot 18 \cdot 21 = 189$, $\frac{1}{2} \cdot 19 \cdot 22 = 209$ であるから $m = 19$

第18群の末項は第189項であるから, 第200項は第19群の $200 - 189 = 11$ 番目の数である.

以上から第200項は $\boxed{\frac{10}{20}}$ である.

(5-3) 第 k 群に含まれる数の総和は,

$$1 + \frac{1}{k+1} + \frac{2}{k+1} + \dots + \frac{k}{k+1} = \frac{1+2+\dots+(k+1)}{k+1} = \frac{1}{k+1} \cdot \frac{1}{2}(k+1)(k+2) = \frac{k+2}{2}$$

であるから, この数列の初項から第200項までの和は,

$$\sum_{k=1}^{18} \left(\frac{k+2}{2} \right) + \left\{ 1 + \frac{1}{20} + \frac{2}{20} + \dots + \frac{10}{20} \right\} = \frac{1}{2} \cdot \frac{1}{2} \cdot 18(3+20) + 1 + \frac{1}{20} \cdot \frac{1}{2} \cdot 10 \cdot 11 = \boxed{\frac{429}{4}}$$

2

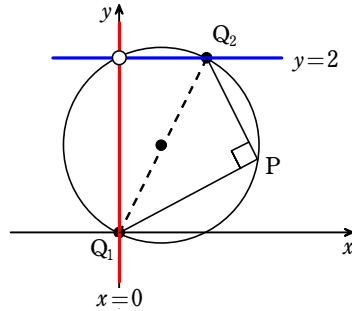
xy 平面上の2直線 $l_1: mx - y = 0$, $l_2: x + my - 2m - 1 = 0$ の交点を P とし, m が任意の実数をとるとき点 P の軌跡が描く曲線を C とする. C と l_1, l_2 の交点をそれぞれ Q_1, Q_2 とする.

- (1) 点 P の軌跡を求めよ.
 (2) $PQ_1 + PQ_2$ が最大となるときの m の値を求めよ.

(1) l_1, l_2 に関して, $m \cdot 1 + (-1)m = 0$ であるから, $l_1 \perp l_2$ である.

また, $l_1: mx - y = 0$ より l_1 は点 $(0, 0)$ を通る直線のうち $x=0$ を除くものを表し,

$l_2: x - 1 + m(y - 2) = 0$ より l_2 は点 $(1, 2)$ を通る直線のうち $y=2$ を除くものを表す.



よって, 点 P の軌跡は2点 $(0, 0)$, $(1, 2)$ を直径とする円のうち点 $(0, 2)$ を除いたもの.

(2) (1) から $Q_1(0, 0)$, $Q_2(1, 2)$ である. $PQ_1 + PQ_2 > 0$ であるから,

$$PQ_1 + PQ_2 \text{ が最大} \Leftrightarrow (PQ_1 + PQ_2)^2 \text{ が最大}$$

である. ここで,

$$(PQ_1 + PQ_2)^2 = (PQ_1^2 + PQ_2^2) + 2PQ_1 \cdot PQ_2 = Q_1Q_2^2 + 4(\Delta PQ_1Q_2)$$

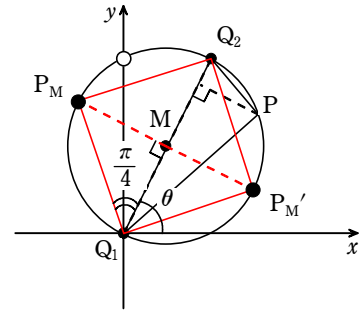
となり, $Q_1Q_2^2$ は定数であるから,

$$PQ_1 + PQ_2 \text{ が最大} \Leftrightarrow (\Delta PQ_1Q_2) \text{ が最大}$$

(ΔPQ_1Q_2) が最大となるのは, 点 P と線分 Q_1Q_2 の距離が最大となるときである. このとき, 右図のように点 $M, P_M, P_{M'}$ を設定し, 直線 Q_1Q_2 と x 軸のなす角を θ とする. $\Delta P_MQ_1Q_2, \Delta P_{M'}Q_1Q_2$ は直角二等辺三角形であるから, $\angle Q_1P_MQ_2 = \angle Q_1P_{M'}Q_2 = \frac{\pi}{4}$

ここで, $\tan \theta = 2$ から

$$m = \tan\left(\theta \pm \frac{\pi}{4}\right) = \frac{\tan \theta \pm \tan \frac{\pi}{4}}{1 \mp \tan \theta \tan \frac{\pi}{4}} = \frac{2 \pm 1}{1 \mp 2} \quad (\text{複号同順}) \quad \therefore \boxed{m = \frac{1}{3}, -3}$$



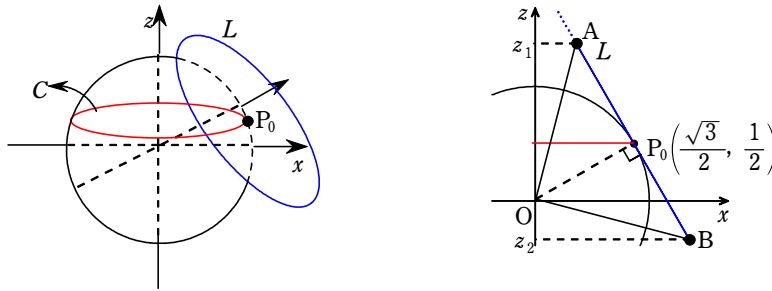
xyz 空間上に原点中心、半径1の球面 K がある。 K と $z = \frac{1}{2}$ の共通部分にできる円を C とし、 C 上の点 P を中心とする半径1の円板 L が K に接しているとする。

(1) C 上の点 $P_0\left(\frac{\sqrt{3}}{2}, 0, \frac{1}{2}\right)$ において L が K に接しているとき、 L 上に存在する点の z 座標がとり得る値の範囲を $z_1 \leq z \leq z_2$ とする。 z_1 と z_2 を求めよ。

(2) 平面 $z = t$ ($z_1 \leq t \leq z_2$) による L の切り口と z 軸との距離の最小値 d を求めよ。

(3) 点 P が C 上を1周するとき、 L が通過してできる部分と $z = z_1, z = z_2$ とで囲まれてできる立体の体積を求めよ。

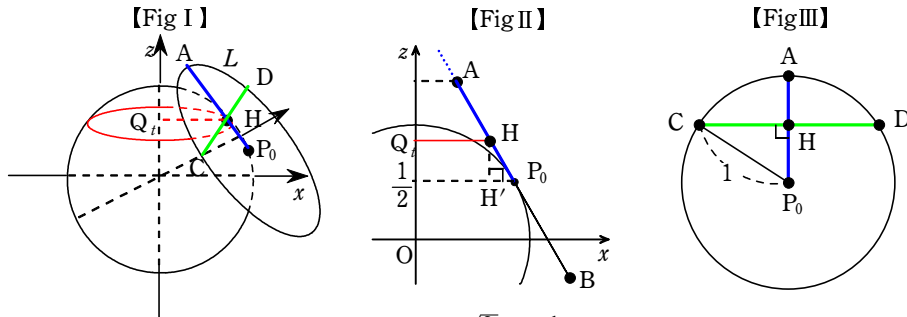
(1) zx 平面に射影した図は次の右図になる。



L 上の端点を A, B とすると、 $\angle AOP_0 = \angle P_0OB = \frac{\pi}{4}$, $OA = OB = \sqrt{2}OP_0 = \sqrt{2}$ であるから、

$$z_1 = \sqrt{2} \sin\left(\frac{\pi}{6} - \frac{\pi}{4}\right) = \frac{1 - \sqrt{3}}{2} \quad z_2 = \sqrt{2} \sin\left(\frac{\pi}{6} + \frac{\pi}{4}\right) = \frac{1 + \sqrt{3}}{2}$$

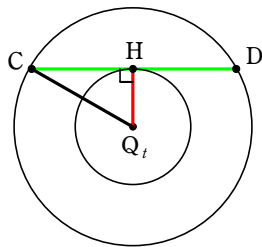
(2) $Q_t(0, 0, t)$ とする。 平面 $z = t$ と L の共通部分は、 次の【Fig I】における線分 CD である。



zx 平面上に射影した図【Fig II】において、 L は直線 $\frac{\sqrt{3}}{2}x + \frac{1}{2}z = 1$ すなわち $x = \frac{1}{\sqrt{3}}(2 - z)$ と表せるので、

最短距離 d は $d = Q_tH = \frac{1}{\sqrt{3}}(2 - t)$

(3) 線分 CD を z 軸の回りに1回転させてできる図形の面積を $S(t)$ とする。 z 軸と線分 CD の最大距離を D とすると $D = Q_tC$ であり、



$$S(t) = \pi D^2 - \pi d^2 = \pi(Q_tC^2 - Q_tH^2) = \pi CH^2$$

【FigII】においてHから $z = \frac{1}{2}$ に下ろした垂線の足をH' とすると $HH' = \left| t - \frac{1}{2} \right|$

また、 $\angle HP_0H' = \frac{\pi}{3}$ であるから $HP_0 = \frac{2}{\sqrt{3}} \left| t - \frac{1}{2} \right|$

【FigIII】において

$$CH^2 = 1 - HP_0^2 = 1 - \frac{4}{3} \left(t - \frac{1}{2} \right)^2$$

以上から求める立体の体積は、

$$\begin{aligned} \int_{z_1}^{z_2} S(t) dt &= \int_{z_1}^{z_2} \left\{ 1 - \frac{4}{3} \left(t - \frac{1}{2} \right)^2 \right\} \pi dt \\ &= \left[t - \frac{4}{9} \left(t - \frac{1}{2} \right)^3 \right]_{z_1}^{z_2} \pi \\ &= \left\{ \sqrt{3} - \frac{4}{9} \left(\frac{\sqrt{3}}{2} \right)^3 + \frac{4}{9} \left(-\frac{\sqrt{3}}{2} \right)^3 \right\} \pi \\ &= \boxed{\frac{2\sqrt{3}}{3} \pi} \end{aligned}$$